



المادة : زينة وتنسيق الزهور- الكود: M326  
اليوم : الأثنين الموافق: ٢٧-٦-٢٠٢١  
الفرقة: ثالثة إدارة - الزمن : ٢ ساعة من ٩.٣٠-١١.٣٠

## اختبار نهائي للفصل الدراسي الثاني للعام الجامعي ٢٠٢١-٢٠٢٢ م

السؤال الأول : ضعي علامة (√) أو علامة (×) امام العبارات المناسبة لها (١٠ درجات)

- ١- درجة الحرارة المثلى للورد هي ١٦ درجة ليلا ٢٠ إلى ٢٨ درجة نهارا ( )
- ٢- من السمات المميزة للحديقة الفرعونية ارتفاع الحدائق عن سطح الأرض لحمايتها من الفيضان ( )
- ٣- الحدائق الفارسية أول من استخدموا القباب واعطوا فكرة حدائق الأسطح ( )
- ٤- الطراز الياباني يتفق في مبدأ المستويات الثلاثة (الانسان - الأرض - السماء) ( )
- ٥- عند قطف أزهار الورد تقطف الورد الأحمر عند تفتح أول بتلتين في الزهرة ( )
- ٦- التنسيق البسيط هو استخدام زهرة واحدة في التنسيق ( )
- ٧- درجة الحرارة المناسبة يفضل ألا تزيد درجة حرارتها عن ٢٧ درجة ( )
- ٨- للحصول على الطاقة بتقليل فقدان الماء بعدم وضعها في ضوء شديد ( )
- ٩- من السمات المميزة للحديقة الفرعونية التصميم يمثل الطراز الطبيعي ( )
- ١٠- في فصل الشتاء نضع ألوان الأزهار (الأزرق- الأبيض- الأصفر) في الحجرات ( )

السؤال الثاني : اختاري من عبارات عمود (أ) ما يناسبها من عبارات عمود (ب) (١٠ درجات)

عبارات عمود (أ)	م	عبارات عمود (ب)	م
من السمات المميزة للحديقة اليابانية	أ	أنشأوا حدائق عامة ومنتزهات لملتقى الفلاسفة	١
من السمات المميزة للحديقة الفارسية	ب	طبيعية التصميم غير هندسية	٢
من السمات المميزة للحديقة الاغريقية	ج	أول من ابتكروا فكرة الحدائق المعلقة	٣
من السمات المميزة للحديقة الآشورية	د	وجود فن البونساي	٤
من السمات المميزة للحديقة الصينية	هـ	اعتمد تصميمهم على المركزية بوجود برجولة في الوسط تمثل صاحب السلطة	٥

الاجابة : ( ١ - ) - ( ٢ - ) - ( ٣ - ) - ( ٤ - ) - ( ٥ - )


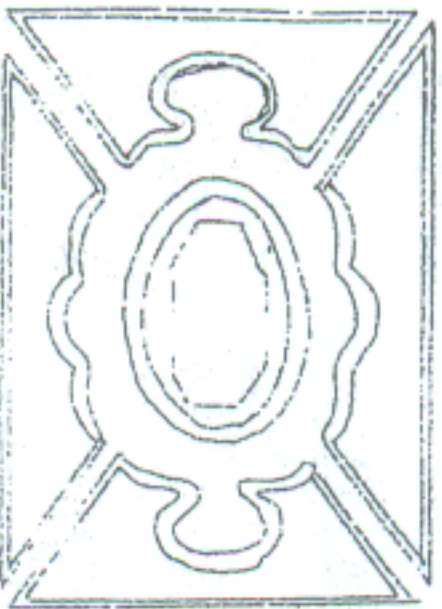




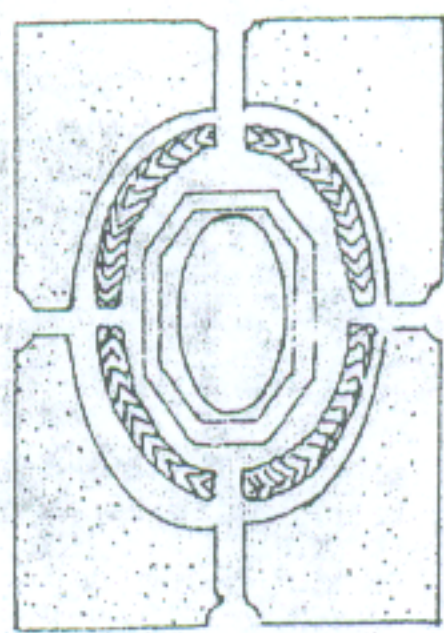

السؤال الثالث : اکتبي المصطلح الدال على العبارات الآتية : ( ٢٠ درجة )


- ١- استخدام يكون بمعرفة ودراية جيدة في كيفية توزيع وتنسيق النباتات ويسمى علم (فن تنسيق وتوظيف النباتات) ( )
- ٢- طراز يتميز بوجود طرق ومشايات منحنية ( )
- ٣- استخدام يكون بامتصاص الغازات غير المرغوبة فيها من الجو ( )
- ٤- زهرة عطرية تعنى مباحج طيبة في الربيع وتعنى الرحيل في الشتاء ( )
- ٥- تعرف بأنها مجموعة من النباتات تكتمل دورة حياتها في موسم واحد فقط سواء في الموسم الشتوي أو الموسم الصيفي ( )
- ٦- طراز يتميز بالخطوط المستقيمة ويحتاج لعناية فائقة للمحافظة على شكلها ( )
- ٧- نبات شجري قائم أو متسلق منه الأحمر والأصفر والأبيض ( )
- ٨- زهرة يتميز أزهارها الجميلة القمعية الشكل وتزهو في الربيع ( )
- ٩- مثبتات مكونة من مادة اسفنجية القوام يمكنها الاحتفاظ بالماء عدة أيام ( )
- ١٠- زهرات تنتمي إلى نفس العائلة الزينونية ( )

**السؤال الرابع : اكمل العبارات الآتية : ( ١٠ درجات )**

- ١- أهم النباتات التي استخدمها الفرس أ-..... ب-..... ج-.....
- ٢- من القواعد الأساسية المهمة لتصميم وتنسيق الزهور أ-..... ب-..... ج-..... د-.....
- ٣- يعمدون الصينيون للمعنى الرمزي للنباتات مثل البامبو "الخيزران" إلى ..... وترمز أزهار اللوتس إلى ..... واستعمل الصنوبر لتمثيل .....
- ٤- أنواع الحدائق اليابانية أ-..... ب-..... ج-.....
- ٥- كلمة فن البونساي تتكون من مقطعين الأول ..... والثاني .....

**السؤال الخامس : اكتب أسفل الرسم التنسيق الدال عليه ( ١٠ درجات )**

			
-٤	-٣	-٢	-١
			
-٨	-٧	-٦	-٥



مع تمنياتي بالنجاح  
صلى الله عليه وسلم  
(أ.د/ مهجة مسلم - أ.د/ ربيع نوفل - أ.د/ مایسة الحبشی - أ.د/ هبة الله شعيب)  
مرحباً بكم ربيع نوفل مایسة الحبشی



## اختبار نهائي للفصل الدراسي الثاني للعام الجامعي ٢٠٢١-٢٠٢٢ م

السؤال الأول : ضعي علامة (√) أو علامة (×) امام العبارات المناسبة لها (١٠ درجات)

- ١- درجة الحرارة المثلى للورد هي ١٦ درجة ليلا ٢٠ إلى ٢٨ درجة نهارا ( )
- ٢- من السمات المميزة للحديقة الفرعونية ارتفاع الحدائق عن سطح الأرض لحمايتها من الفيضان ( )
- ٣- الحدائق الفارسية أول من استخدموا القباب واعطوا فكرة حدائق الأسطح ( )
- ٤- الطراز الياباني يتفق في مبدأ المستويات الثلاثة (الانسان - الأرض - السماء) ( )
- ٥- عند قطف أزهار الورد تقطف الورد الأحمر عند تفتح أول بتلتين في الزهرة ( )
- ٦- التنسيق البسيط هو استخدام زهرة واحدة في التنسيق ( )
- ٧- درجة الحرارة المناسبة يفضل ألا تزيد درجة حرارتها عن ٢٧ درجة ( )
- ٨- للحصول على الطاقة بتقليل فقدان الماء بعدم وضعها في ضوء شديد ( )
- ٩- من السمات المميزة للحديقة الفرعونية التصميم يمثل الطراز الطبيعي ( )
- ١٠- في فصل الشتاء نضع ألوان الأزهار (الأزرق- الأبيض- الأصفر) في الحجرات ( )

السؤال الثاني : اختاري من عبارات عمود (أ) ما يناسبها من عبارات عمود (ب) (١٠ درجات)

عبارات عمود (ب)	م	عبارات عمود (أ)	م
أنشأوا حدائق عامة ومنتزهات لملتقى الفلاسفة	أ	من السمات المميزة للحديقة اليابانية	١
طبيعية التصميم غير هندسية	ب	من السمات المميزة للحديقة الفارسية	٢
أول من ابتكروا فكرة الحدائق المعلقة	ج	من السمات المميزة للحديقة الاغريقية	٣
وجود فن البونساي	د	من السمات المميزة للحديقة الآشورية	٤
اعتمد تصميمهم على المركزية بوجود برجولة في الوسط تمثل صاحب السلطة	هـ	من السمات المميزة للحديقة الصينية	٥

الاجابة : (١ -) - (٢ -) - (٣ -) - (٤ -) - (٥ -)


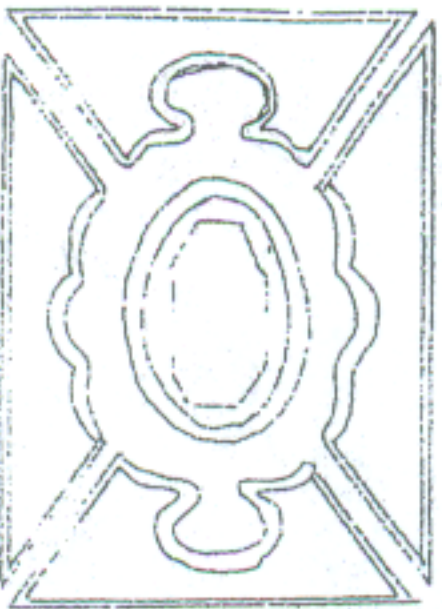




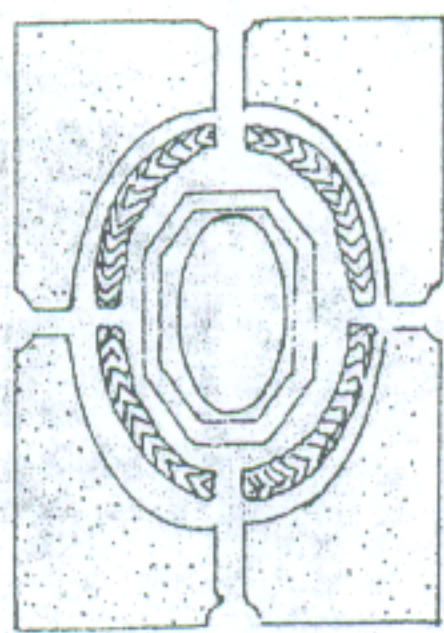

السؤال الثالث : اکتبي المصطلح الدال على العبارات الآتية : (٢٠ درجة)

- ١- استخدام يكون بمعرفة ودراية جيدة في كيفية توزيع وتنسيق النباتات ويسمى علم (فن تنسيق وتوظيف النباتات) ( )
- ٢- طراز يتميز بوجود طرق ومشايات منحنية ( )
- ٣- استخدام يكون بامتصاص الغازات غير المرغوبة فيها من الجو ( )
- ٤- زهرة عطرية تعنى مباحج طيبة في الربيع وتعنى الرحيل في الشتاء ( )
- ٥- تعرف بأنها مجموعة من النباتات تكتمل دورة حياتها في موسم واحد فقط سواء في الموسم الشتوي أو الموسم الصيفي ( )
- ٦- طراز يتميز بالخطوط المستقيمة ويحتاج لعناية فائقة للمحافظة على شكلها ( )
- ٧- نبات شجري قائم أو متسلق منه الأحمر والأصفر والأبيض ( )
- ٨- زهرة يتميز أزهارها الجميلة القمعية الشكل وتزهو في الربيع ( )
- ٩- مثبتات مكونة من مادة اسفنجية القوام يمكنها الاحتفاظ بالماء عدة أيام ( )
- ١٠- زهرات تنتمي إلى نفس العائلة الزينونية ( )

**السؤال الرابع : اكمل العبارات الآتية : ( ١٠ درجات )**

- ١- أهم النباتات التي استخدمها الفرس أ-..... ب-..... ج-.....
- ٢- من القواعد الأساسية المهمة لتصميم وتنسيق الزهور أ-..... ب-..... ج-..... د-.....
- ٣- يعمدون الصينيون للمعنى الرمزي للنباتات مثل البامبو "الخيزران" إلى ..... وترمز أزهار اللوتس إلى ..... واستعمل الصنوبر لتمثيل .....
- ٤- أنواع الحدائق اليابانية أ-..... ب-..... ج-.....
- ٥- كلمة فن البونساي تتكون من مقطعين الأول ..... والثاني .....

**السؤال الخامس : اكتب أسفل الرسم التنسيق الدال عليه ( ١٠ درجات )**

			
-٤	-٣	-٢	-١
			
-٨	-٧	-٦	-٥