

الإمتحان 2 ورقة فقط

الورقة الأولى

السؤال الأول : -

من خلال دراستك لمادة التجديد والإرتقاء الحضري تكلم عن أحد الموضوعات التالية بالتفصيل

أختر موضوع واحد فقط


- 1- العشوائيات في مصر من خلال : ( مفهوم العشوائيات - أنواع العشوائيات - أسباب المناطق العشوائية - خصائص العشوائيات - أثرها على المجتمع - أمثلة لمناطق عشوائية في مصر ..... الخ )
- 2- القرية المصرية من خلال : ( تعريف الريف المصري ، البيئة العمرانية في القرية المصرية، نبذة تطور تاريخي للقرية المصرية ، المسكن الريفي التقليدي ، ..... الخ )
- 3- التلوث البصري وترييف المدن من خلال : ( تعريف ظاهرة التلوث البصري ، ظاهرة ترييف المدن ، علاقة الإنسان والبيئة ، تعريف التلوث البيئي والبصري ، أسبابه ، علاجه ..... الخ )
- 4- التراث والإرتقاء الحضري من خلال : ( تعريف التراث المعماري ، أهميته ، أساليب الحفاظ على التراث ، نماذج لمناطق تراثية تم الإرتقاء بها ، تجارب تحسين وارتقاء خارج مصر ..... الخ  
ملحوظة : على الطالب تدعيم الإجابة بالرسومات والإسكتشات كلما أمكن

السؤال الثاني : - أختر 2 صورة فقط من إجمالي الصور بالورقة التالية

- قص الصورة المختارة وألصقها بكراسة الإجابة وقم بعمل تحليل معماري للصورة من خلال :
- 1- اسم الظاهرة التي تعبر عنها الصورة ؟
  - 2- هل الصورة سلبية أم إيجابية ؟
  - 3- ما هو التعليق المناسب ( باختصار ) عن الصورة ؟

انظر الورقة التالية


الورقة الثانية



3




2




1



5



4



7



6



8



10



9